











Koninklijke Dordrechtsche Roei en Zeilvereeniging

Theoriekaart 2-3 Omgaan met roeimateriaal

	1. Dit is een ...	a. spant. b. buikdenning. c. kielbalk.
	2. Dit is een ...	a. kraag. b. manchet. c. dolhouder.
	3. Dit is een ...	a. roerjuk. b. roerpen. c. roerhengsel.
	4. Dit is een ...	a. C-skiff. b. single wherry. c. gladde skiff.
	5. De dol staat in de goede stand als deze naar de ... is gericht.	a. voorkant van de boot b. achterkant van de boot c. voor- of achterkant van de boot
	6. De riemen worden op het vlot gelegd met de bolle kant van het blad naar ...	a. beneden. b. boven. c. beneden of boven.
	7. Je komt terug van een roeitocht. De juiste volgorde bij het naar boven brengen van het roeimateriaal is:	a. eerst de riemen, dan de boot. b. eerst de boot, dan de riemen. c. de boot of de riemen
	8. Bij het te water laten van de boot over een glijstrip gaat de boeg als ...	a. eerste het water in. b. laatste het water in. c. maakt niet uit.
	9. Je hebt te weinig ruimte tussen de handles bij de uitpik. In welke richting verplaats je het voetenbord?	a. Je zet het voetenbord omlaag. b. Je zet het voetenbord van je af. c. Je zet het voetenbord naar je toe.
	10. Op welke foto zijn de tennisballen het best geplaatst als de betreffende boot tussen andere boten in de stelling ligt?	a. Foto links. b. Foto rechts. c. Maakt niet uit.

Antwoorden theoriekaart 2-3 Omgaan met roeimateriaal

- | | |
|----|---|
| 1 | C |
| 2 | A |
| 3 | B |
| 4 | A |
| 5 | B |
| 6 | B |
| 7 | B |
| 8 | B |
| 9 | C |
| 10 | B |