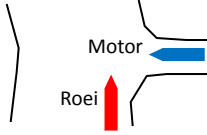
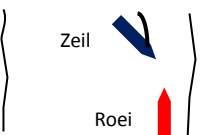
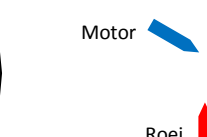


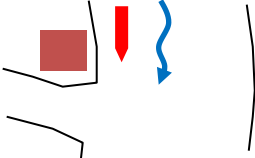
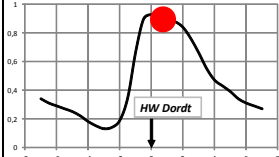





Koninklijke Dordrechtse Roei en Zeilvereniging

Theoriekaart 1-4 Roeiwater en vaarregels

	<p>1. Jij roeit van de KDR&ZV naar het Vissertje. Uit de Vlij komt een motorbootje. Wie heeft voorrang?</p>	<p>a. Dit is afhankelijk van stroming. b. Het motorbootje. c. Jij in een roeiboot.</p>
	<p>2. Jij roeit stuurboordwal en een scoutingvlet wil kruisend voor jou langs zeilen, wie heeft voorrang?</p>	<p>a. Hangt af van de wind b. De zeilboot. c. Jij in een roeiboot.</p>
	<p>3. Een motorbootje is onduidelijk aan het scharrelen, jij wilt er langs, wat moet je doen?</p>	<p>a. Gewoon doorgaan, jij hebt voorrang. b. Wachten tot je er langs kunt. c. Er voorzichtig omheen varen.</p>
	<p>4. Dit bord betekent:</p>	<p>a. Verboden in te varen. b. Dordts gemeente water. c. Eenrichtingsverkeer.</p>
	<p>5. Mag je door dit gat roeien?</p>	<p>a. Ja. b. Nee. c. Alleen als het veilig kan.</p>
	<p>6. Je staat op het wherryvlot en het water stroom richting de Prins Hendrikbrug. Wat kun je zeggen?</p>	<p>a. Het wordt hoog water. b. Het wordt laag water. c. Het is bijna hoog water.</p>
	<p>7. Je komt met flinke stroom mee vanaf de spoorbrug langs de Westergoot. Wat doe je?</p>	<p>a. Niks, jij hebt voorrang, Westergoot is nevenvaarwater. b. Je stuurt naar het midden van het vaarwater om overzicht en ruimte te creëren. c. Niks, maar je bent wel alert.</p>
	<p>8. De waterstand bij het vlot is vrij hoog en het stroomt niet of nauwelijks. Wat is de verwachting?</p>	<p>a. De stroming zal richting spoorbrug gaan (vloed). b. De stroming zal richting Prins Hendrikbrug gaan (eb). c. Daar is niks van te zeggen.</p>
	<p>9. Er staat een sterke vloedstroom langs het vlot, wat betekent dat voor de aanvaarhoek bij het aanleggen?</p>	<p>a. Hoe sterker de stroming, hoe kleiner de aanvaarhoek. b. Hoe sterker de stroming, hoe groter de aanvaarhoek. c. De stroming heeft geen invloed op de aanvaarhoek.</p>

	<p>10. Er staat stroom en een redelijke wind er tegenin. Als je stil ligt ga je naar links t.o.v. de oever op het plaatje. In welke richting ga je aanleggen?</p>	<p>a. Doorgaan naar links. b. Rondmaken en naar rechts. c. Maakt niet uit.</p>
--	---	--

Antwoorden theoriekaart 1-4 Roeiwater en vaarregels

- 1 C
- 2 C
- 3 C
- 4 A
- 5 B
- 6 B
- 7 B
- 8 B
- 9 A
- 10 B